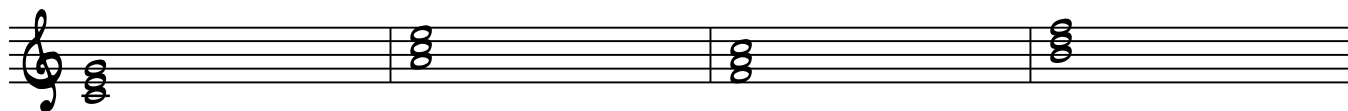


תרגיל על אקורדים משולשים


כתבו את שם האקורד מעל התווים
בתרגיל השני רישמו את התווים מתחת לשם האקורד

בעמוד הבא ניתן לראות את הפיתרונות


תרגילים




A D MIN G MIN F



E^b G[#] MIN C MIN B^o



E A^b G AUG B MIN



33

C A^{MIN} F B[°]

37

E E^{MIN} F^{AUG} B

41

E^b C^{#MIN} A^{bAUG} E[°]

45

C^{MIN} B^{DIM} A^b G^{MIN}

49

G G^{AUG} G^{DIM} D

53

A D^{MIN} G^{MIN} F

57

E^b G^{#MIN} C^{MIN} B[°]

61

E A^b G^{AUG} B^{MIN}